

نام و نام خانوادگی: .....

آزمون درس/شماره‌ی: ارزشیابی - دی ماه - ریاضی

پایه‌ی: دوم

تاریخ آزمون:

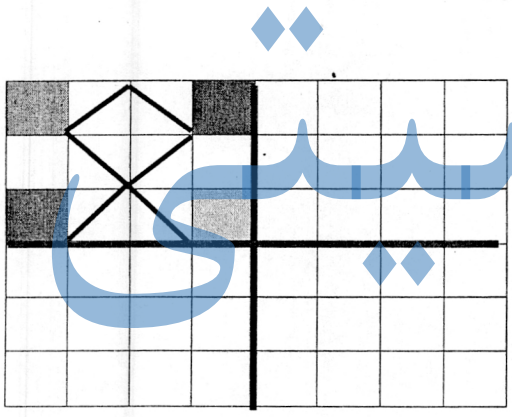
آموزگار:

سوالات

۱- جمع و تفریق های زیر را با استفاده از روش گسترده نویسی حساب کنید.

$46$	$24$	$20$	$46$
$-16$	$+24$	$+29$	$-16$
_____	_____	_____	_____
.....	.....	.....	.....
- .....	+	+	- .....
_____	_____	_____	_____

۲- کاشی کاری را طوری کامل کن که ۴ قسمت شکل کاملاً مثل هم باشند.



۳- رضا به پدرش در کارگاه نجاری کمک می کند. او در ماه گذشته ۱۸ میز ساخت و پدرش ۲۵ میز آن ها چند میز ساخته اند؟

.....

اگر ۲۷ تای آن ها را بفروشند چند میز برایشان باقی می ماند؟

.....

۴- الگوهای عددی زیر را ادامه بده.

۳۶- ۴۲- ۴۸.....

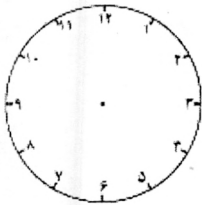
۱۸- ۱۹- ۲۱- ۲۴.....

۵- به عدد یا حروف بنویس:


	دویست و دوازده
۱۰۵	

۵۶۷	
	چهارصد و بیست و دو

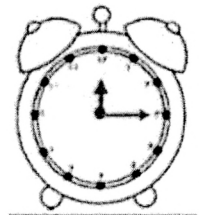
۶- زمان های خواسته شده را بنویسید.



.....  
۸:۱۵

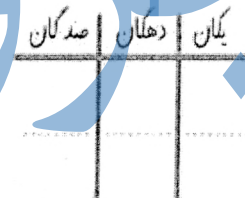



.....  
.....




یک ربع مانده به چهار

۷- عددی را که شکل نشان می دهد بنویس.



به حروف : .....

به رقم : .....



۸- جمع و تفریق های زیر را به صورت تقریبی بنویس.

۵۳

+۳۹

---

۶۵

-۲۹

---

۹- تمام عدد هایی را که می توان با سه کارت ۲, ۳, ۷ نوشت , پیدا کن و بنویس که در کدام عددها حاصل جمع یکان

و دهگان آن ۸ تا بیشتر از صدگان است ؟

۱۰- سحر برای خرید یک بستنی به فروشنده ۲ سکه ۱۰۰ ریالی , ۵ سکه ۱۰ ریالی و ۳ سکه ۱ ریالی داد . قیمت

بستنی چه قدر بوده است ؟

# جزوه سیپی

